

## Moving charge and magnetic field

गतिमान आवेश तथा चुम्बकीय क्षेत्र

**Magnetic field** :- किसी चुम्बक के चारों ओर का वह क्षेत्र जिसमें किसी चुम्बकीय सूई को लाने पर उस पर एक बल आधुनिक कार्य करता है, जिसके कारण चुम्बकीय सूई एक निश्चित दिशा में ठहरती है, चुम्बकीय क्षेत्र कहलाता है। चुम्बकीय क्षेत्र की दिशा दक्षिणी ध्रुव से उत्तरी ध्रुव की ओर खींची गई रेखा की दिशा होती है।

**चुम्बकीय क्षेत्र की उत्पत्ति के कारण** :- चुम्बकीय क्षेत्र निम्न चार कारणों से उत्पन्न होता है।

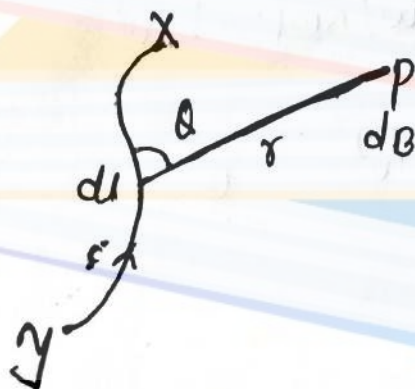
1. चुम्बक के द्वारा
2. गतिमान आवेश द्वारा
3. चारावाही चालक द्वारा
4. परिवर्ती वैद्युत क्षेत्र द्वारा

**Note** :- स्थिर आवेश केवल वैद्युत क्षेत्र उत्पन्न करता है। जबकी गतिमान आवेश वैद्युत तथा चुम्बकीय दोनों क्षेत्र उत्पन्न करता है।

**Imp** Biot-Savart's law :-

आर्सेड के अनुसार जब किसी चालक में चारा प्रवाहित होती है तो उसके चारों ओर चुम्बकीय क्षेत्र उत्पन्न क्षेत्र उत्पन्न हो जाता है।

किसी चालक के अल्पांश भाग के कारण किसी बिन्दु पर उत्पन्न चुम्बकीय क्षेत्र अयो-सर्वट के नियम से दिया जाता है।



माना किसी चालक XY में i धारा प्रवाहित हो रही है इसके अर्धवृत्त भाग के कारण r दूरी पर बिन्दु P पर चुम्बकीय क्षेत्र ज्ञात करना है।

हाथी सर्वर के अनुसार इस बिन्दु पर चुम्बकीय क्षेत्र निम्न कारकों पर निर्भर करता है।

1. चालक में बहने वाली धारा के आनुक्रमानुपाती होता है अर्थात्  $\propto i$

2. अर्धवृत्त भाग की लम्बाई के अनुक्रमानुपाती होता है। अर्थात्  $\propto dl$

3. अर्धवृत्त भाग तथा बिन्दु को मिलाने वाली रेखा के बीच बने कोण की ज्या के अनुक्रमानुपाती होता है अर्थात्  $\propto \sin \theta$

4. अर्धवृत्त भाग से बिन्दु तक की दूरी के वर्ग के व्युत्क्रमानुपाती होता है अर्थात्  $\propto \frac{1}{r^2}$

$$\propto \frac{dB \propto i dl \sin \theta}{r^2} \quad \text{or} \quad \boxed{dB = \frac{\mu_0}{4\pi} \frac{i dl \sin \theta}{r^2}}$$

जहाँ  $\mu_0$  एक नियतांक है जिसे निर्वारत कि चुम्बक शीलता कहते हैं।

$$\boxed{\mu_0 = 4\pi \times 10^{-7}} \quad \boxed{\frac{\mu_0}{4\pi} = 10^{-7}}$$

मात्रक -  $\text{New/Amp}^2$

$$\text{विमा} - \frac{MLT^{-2}}{A^2} = \boxed{MLT^{-2}A^{-2}}$$

→ निर्वारत की चुम्बकीय शीलता तथा निर्वारत की वैद्युत-शीलता में संबंध :-

We know that

$$\frac{\mu_0}{4\pi} = 10^{-7} \text{ New/Amp}^2 \quad \text{--- (1)}$$

and

$$\frac{1}{4\pi \epsilon_0} = 9 \times 10^9 \quad \text{--- (2)}$$



समीकरण ① and ② से -

$$\frac{\mu_0}{4\pi} / \frac{1}{4\pi\epsilon_0} = \frac{10^{-7}}{9 \times 10^9}$$

$$\frac{\mu_0 \times 4\pi\epsilon_0}{4\pi} = \frac{1}{9 \times 10^{16}}$$

$$\mu_0\epsilon_0 = \frac{1}{9 \times 10^{16}}$$

$$\sqrt{\mu_0\epsilon_0} = \frac{1}{3 \times 10^8}$$

$$\sqrt{\mu_0\epsilon_0} = \frac{1}{c}$$

$$c = \frac{1}{\sqrt{\mu_0\epsilon_0}}$$

Where, c प्रकाश की चाल

VIDYAKUL

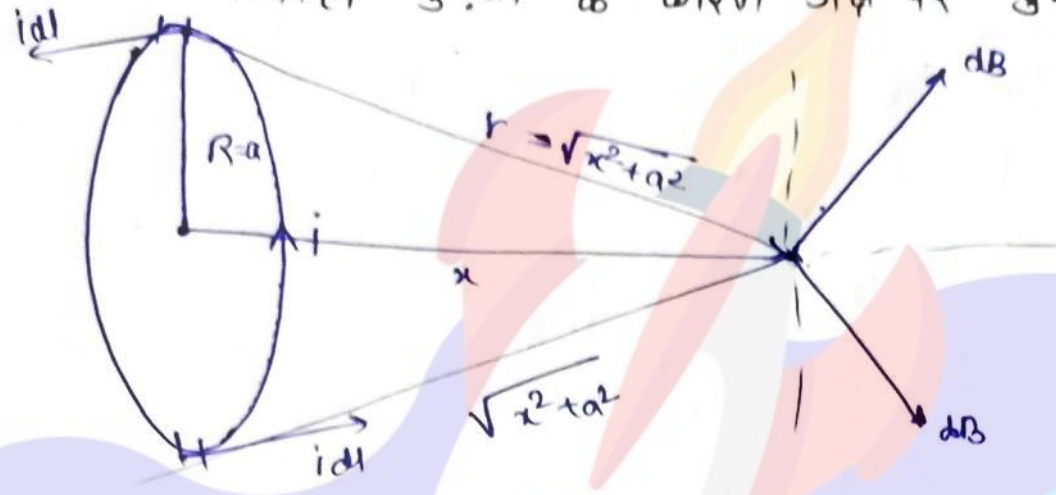
धारावाही चालक के कारण उत्पन्न चुम्बकीय क्षेत्र की दिशा ज्ञात करना :-

Oersted के अनुसार जब किसी चालक में धारा प्रवाहित होती है तो उसके चारों ओर चुम्बकीय क्षेत्र उत्पन्न हो जाता है। इस चुम्बकीय क्षेत्र की दिशा निम्न नियमों से दी जाती है।  
बायें हाथ की हथेली का नियम - यदि दायें हाथ के पंजों को इस प्रकार फैलायें की उंगलियाँ तथा अंगुठा परस्पर लम्बवत रहें यदि अंगुठा चालक में बहने वाली धारा की दिशा को प्रदर्शित करे तथा अंगुलियाँ उस बिन्दु की ओर हैं, जहाँ चुम्बकीय क्षेत्र ज्ञात करना है तो चुम्बकीय क्षेत्र की दिशा हथेली की लम्बवत बाहर की ओर होगी।

मक्सवेल का दक्षिणावर्ति पंच का नियम - यदि पंच कसते समय पंचकस को दायें हाथ में पकड़ कर इस प्रकार धुमायें की पंच की नोक चालक में बहने वाली धारा की दिशा में आगे बढ़े तो अंगुठे के धुमने की दिशा चुम्बकीय बल रेखाओं की दिशा होती है।



→ वृत्तकार धारावाही कुंडली के कारण अक्ष पर चुम्बकीय क्षेत्र: (क)



माना एक वृत्तकार धारावाही कुंडली में  $i$  एम्पियर की धारा प्रवाहित हो रही है कुंडली की त्रिज्या  $a$  है तथा इसके केन्द्र  $O$  से  $x$  दूरी पर कोई बिन्दु  $P$  है जिसपर चुम्बकीय क्षेत्र ज्ञात करता है।

हम जानते हैं कि बायो-सार्वर्ट के नियम अल्पांशों के लिए सत्य है अतः बिन्दु  $P$  पर चुम्बकीय क्षेत्र ज्ञात करने के लिए कुंडली को कई छोटे-छोटे अल्पांशों से मिलकर बना आते हैं।

माना परिधि पर बिन्दु  $A$  पर एक अल्पांश भाग की लम्बाई  $dl$  है इस अल्पांश के कारण बिन्दु  $P$  पर चुम्बकीय क्षेत्र  $dB_1 = \frac{\mu_0}{4\pi} \cdot \frac{idl \sin\theta}{r^2}$

जहाँ  $\theta$   $ds$  तथा  $\mu$  के बीच का कोण है।

if  $\theta = 90^\circ$

$$\therefore dB_1 = \frac{\mu_0}{4\pi} \frac{idl}{r^2}$$

$dB$  को दो घटकों में विभाजित करने पर समान्तर घटक

$dB \cos\theta$  जो अक्ष के लंबवत है तथा लंबवत घटक  $dB \sin\theta$  जो अक्ष के अनुदिश है इसी प्रकार परिधि पर इसी ओर बिन्दु  $B$  पर अल्पांश भाग के कारण चुम्बकीय क्षेत्र

$$dB_2 = \frac{\mu_0}{4\pi} \frac{idl}{r^2}$$

चिहानुसार :-

Cos घटक एक दूसरे के बराबर व विपरित होने के कारण निरस्त हो जाते हैं अतः चुम्बकीय क्षेत्र केवल sin घटक के कारण प्राप्त होगा।

सम्पूर्ण कुंडली के कारण बिन्दु p पर चुम्बकीय क्षेत्र

$$B = \int dl \sin \theta$$

$$B = \int \frac{\mu_0}{4\pi} \frac{idl}{r^2} \cdot \frac{\theta}{r}$$

$$B = \frac{\mu_0}{4\pi} \frac{i\theta}{r^3} \int dl$$

from figure,

$$r^2 = a^2 + x^2$$

$$r = (a^2 + x^2)^{1/2}$$

$$r^3 = (a^2 + x^2)^{3/2}$$

$$\therefore B = \frac{\mu_0}{4\pi} \frac{i}{(a^2 + x^2)^{3/2}} a \cdot 2\pi a$$

$\int dl =$  परिधि की लं  $2\pi a$

$$B = \frac{\mu_0}{2} \cdot \frac{ia^2}{(a^2 + x^2)^{3/2}}$$

इस चुम्बकीय क्षेत्र की दिशा में कुंडली की अक्ष के अनुदिश बाहर की ओर होगी।

केंद्र पर चुम्बकीय क्षेत्र -

केंद्र पर चुम्बकीय क्षेत्र के लिए

$$x = 0$$

$$\therefore B = \frac{\mu_0 ia^2}{2(a^2)^{3/2}}$$

$$B = \frac{\mu_0 i}{2a}$$

N फेरी की कुंडली के लिए

$$B = \frac{\mu_0 Ni}{2a}$$



Ex 10 वृत्तकार चारावाही लूप के केन्द्र पर चुम्बकीय क्षेत्र :- ⑥



माना  $dl$  लम्बाई के एक तार को  $i$  बिज्या के वृत्तकार चारावाही लूप के रूप में मोड़ा गया है तथा इसमें इंसपीयर की चारा वामावर्त दिशा में प्रवाहित हो रही है। बायो-सेवर्ट के नियम से चुम्बकीय क्षेत्र ज्ञात करने के लिए इसे कई अल्पांशों से मिलकर बना मानते हैं।

माना एक अल्पांश भाग की लम्बाई  $dl$  है इस अल्पांश के कारण केन्द्र पर चुम्बकीय क्षेत्र

$$dB = \frac{\mu_0}{4\pi} \frac{idl \sin\theta}{r^2}$$

$\theta = 90^\circ$

$$dB = \frac{\mu_0}{4\pi} \frac{idl}{r^2}$$

सम्पूर्ण चारावाही लूप के कारण केन्द्र पर चुम्बकीय क्षेत्र

$$B \propto dB$$

$$B = \frac{\mu_0}{4\pi} \frac{i}{r^2} \int dl$$

$$B = \frac{\mu_0}{4\pi} \frac{i}{r^2} 2\pi r$$

$$B = \frac{\mu_0 i}{2r}$$

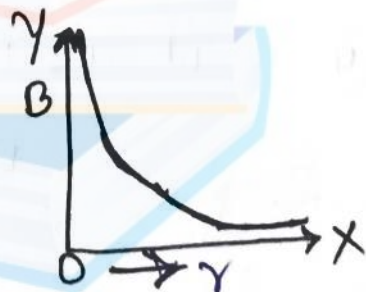
→ चुम्बकीय क्षेत्र का दूरी के साथ परिवर्तन -

We know that

चारावाही लूप के केन्द्र पर चुम्बकीय क्षेत्र निम्न सूत्र से दिया जाता है।

$$B = \frac{\mu_0}{2r}$$

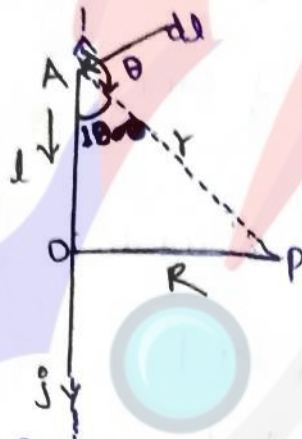
$\therefore B \propto \frac{1}{r}$



→ वायु सैवई के नियम का सदिश रूप-

$$\vec{B}_0 = \frac{\mu_0}{4\pi} \frac{i(\vec{dl} \times \vec{r})}{r^3}$$

अनन्त लम्बाई के धारावाही चालक के कारण चुम्बकीय क्षेत्र



माना अनन्त लम्बाई के धारावाही चालक में  $i$  एम्पीयर की धारा नीचे से ऊपर की ओर प्रवाहित हो रही है। इसके किसी बिन्दु O से R दूरी पर कोई बिन्दु P है जिसपर चुम्बकीय क्षेत्र ज्ञात करना है। माना O से l दूरी पर बिन्दु A पर अल्पांश भाग के कारण बिन्दु P पर चुम्बकीय क्षेत्र-

$$dB = \frac{\mu_0}{4\pi} \frac{idl \sin\theta}{r^2} \quad \text{--- (1)}$$

$\Delta PAO$  में  $\tan(180 - \theta) = \frac{R}{l}$   
 $-\tan\theta = \frac{R}{l}$

or  $l = -R \cot\theta$

or  $dl = R \operatorname{cosec}^2\theta \cdot d\theta$

Again in  $\Delta PAO$  में

$$\sin(180 - \theta) = \frac{R}{r}$$

$$\sin\theta = \frac{R}{r}$$

$$r = R \operatorname{cosec}\theta$$

dl तथा r के मान समीकरण (1) में रखने पर-

$$dB = \frac{\mu_0}{4\pi} i \sin\theta \cdot \frac{R \operatorname{cosec}^2\theta}{R^2 \operatorname{cosec}^2\theta} d\theta$$

$$dB = \frac{\mu_0}{4\pi} \frac{i}{R} \sin\theta d\theta \quad \text{--- (2)}$$



अनन्त लम्बाई के चारावाही चालक के कारण चुम्बकीय क्षेत्र ज्ञात करने के लिए समीकरण (2) को  $0$  से  $\pi$  ( $0 \rightarrow \pi$ ) के बीच समाकलित करने पर आर्थात्

$$B = \int_0^\pi dB$$

$$B = \int_0^\pi \frac{\mu_0}{4\pi} \frac{i}{R} \sin\theta d\theta$$

$$B = \frac{\mu_0}{4\pi} \frac{i}{R} \int_0^\pi \sin\theta d\theta$$

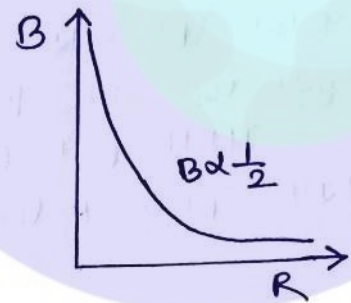
$$B = \frac{\mu_0}{4\pi} \frac{i}{R} [-\cos\theta]_0^\pi$$

$$B = -\frac{\mu_0}{4\pi} \frac{i}{R} [\cos\pi - \cos 0]$$

$$B = -\frac{\mu_0}{4\pi} \frac{i}{R} [-1 - 1]$$

$$B = \frac{\mu_0}{4\pi} \frac{i}{R} \times 2$$

$$B = \frac{\mu_0 i}{2\pi R}$$

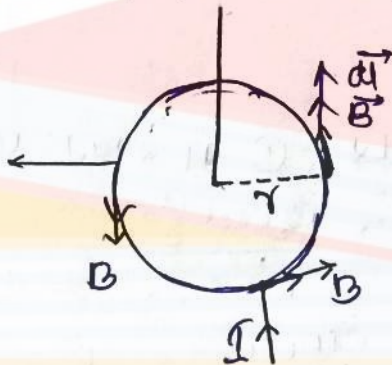


→ Imp सम्पीयर का परिपथीय नियम :- इस नि सम्पीयर का परिपथीय नियम स्थिर वैद्युतकी में गॉस के नियम के अनुसार समतुल्य माना जाता है, इस नियम के अनुसार -  
 "किसी बंद वक्र के लिए चुम्बकीय क्षेत्र का रेखीय समाकलन उस वक्र के सम्पूर्ण पृष्ठ से प्रवाहित होने वाली चारा का  $\mu_0$  गुना होता है।  
 आर्थात्

$$\oint \vec{B} \cdot d\vec{l} = \mu_0 I$$

यह नियम केवल बंद वक्र के लिए ही सत्य है।

Proof :-





माना अनन्त लम्बाई के धारावाही चालक में  $I$  सम्पीयर की धारा प्रवाहित हो रही है।

इसके किसी बिन्दु से  $r$  दूरी पर चुम्बकीय क्षेत्र निम्न गुण दिया जाता है  $B = \frac{\mu_0 I}{2\pi r}$

इस चुम्बकीय क्षेत्र की दिशा मैक्सवेल के दक्षिणावर्ति पंज के नियम से दी जाती है अतः यह चुम्बकीय क्षेत्र चालक के चारों ओर वृत्त के स्पर्शी होगा। अर्थात् वृत्त पर खिंचे गये अल्पांश भाग के अनुदिश होगा।

$$\oint \vec{B} \cdot d\vec{l} = \int B dl \cos \theta$$

Since

$$\theta = 0$$

$$\oint \vec{B} \cdot d\vec{l} = \int B dl$$

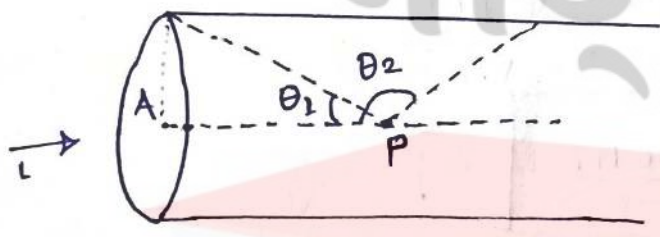
$$\oint \vec{B} \cdot d\vec{l} = B \cdot 2\pi r$$

$$\oint \vec{B} \cdot d\vec{l} = \frac{\mu_0 R \cdot 2\pi r}{2\pi r}$$

$$\oint \vec{B} \cdot d\vec{l} = \mu_0 I$$

यही सम्पीयर का परिपथीय नियम है।

# एक लम्बी परिनालिका के भीतर किसी बिन्दु पर चुम्बकीय क्षेत्र-



माना एक धारावाही परिनालिका में  $i$  सम्पीयर की धारा प्रवाहित हो रही है। इसके भीतर अक्ष पर कोई बिन्दु  $P$  है। जिस पर कोई बिन्दु  $P$  है। जिस पर चुम्बकीय क्षेत्र ज्ञात करना है।

यदि एकांक लम्बाई में फेरों की संख्या  $n$  है तथा दौनों बिंदु से अर्द्धवृत्तीय कोण  $\theta_1$  व  $\theta_2$  हैं।

तो लम्बी परिनालिका के भीतर किसी बिन्दु चुम्बकीय क्षेत्र निम्न सूत्रों से दिया जाता है।

(10)

$$B = \frac{\mu_0 n i}{2} (\cos\theta_1 - \cos\theta_2)$$

Imp. अनन्त लम्बाई की परिनालिका के लिए -

(i) परिनालिका के भीतर किसी बिन्दु चुम्बकीय क्षेत्र के लिए  $\theta_1 = 0$  तथा  $\theta_2 = 180^\circ$

$$B = \frac{\mu_0 n i}{2} (\cos 0^\circ - \cos \pi)$$

$$B = \frac{\mu_0 n i}{2} (1+1)$$

$$\boxed{B = \mu_0 n i}$$

(ii) परिनालिका के किसी एक सिरे पर चुम्बकीय क्षेत्र के लिए  $\theta = \frac{\pi}{2}$  or,  $\theta_2 = 180^\circ$

$$B = \frac{\mu_0 n i}{2} (\cos \frac{\pi}{2} - \cos \pi)$$

$$B = \frac{\mu_0 n i}{2} (0+1)$$

$$\boxed{B = \frac{\mu_0 n i}{2}}$$

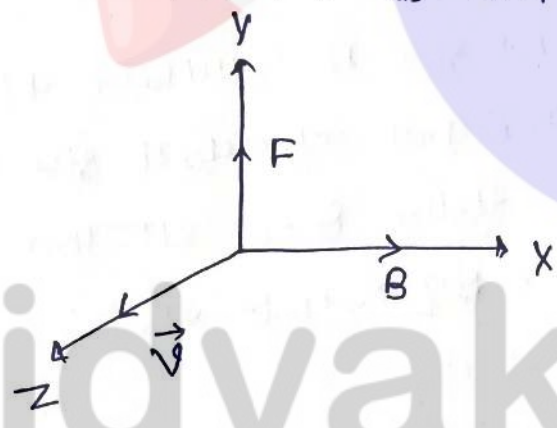
Note: - अनन्त लम्बाई की परिनालिका के किसी एक-दूसरे पर उत्पन्न चुम्बकीय क्षेत्र परिनालिका के भीतर किसी बिन्दु पर उत्पन्न चुम्बकीय क्षेत्र ज्यादा होता है।



→ गतिमान आवेश पर लगनेवाले चुम्बकीय बल (लॉरेंन्ज बल):-  
 जब कोई आवेशित कण किसी चुम्बकीय क्षेत्र में प्रवेश करता है तो उस पर एक चुम्बकीय बल कार्य करता है, जिसे लॉरेंन्ज बल कहते हैं।

माना कि कोई आवेशित कण  $q$ , चुम्बकीय क्षेत्र  $B$  में क्षेत्र के साथ  $\theta$  कोण पर प्रवेश करता है। यदि गतिमान आवेशित कण का वेग  $v$  है, तो कण पर लगनेवाला लॉरेंन्ज बल  $F = Bqv \sin\theta$

इस बल की दिशा फ्लेमिंग के बायें के नियम से दी जाती है।



यदि चुम्बकीय क्षेत्र के अनुदिश तथा गतिमान आवेशित कण  $z$  दिशा में हो, तो कण पर लगने वाला बल  $v$  तथा  $B$  दोनों के सम्मिलित तल के लम्बवत्  $y$  दिशा में होगा।

→ लॉरेंन्ज बल की अधिकतम तथा न्यूनतम होने की शर्तें :-  
 आवेशित कण पर लगनेवाला लॉरेंन्ज बल अधिकतम तब होगा जब  $\sin\theta$  का मान अधिकतम होगा।

जो  $\theta = \frac{\pi}{2}$  पर प्राप्त होगा। इस प्रकार जब कोई गतिमान आवेशित कण चुम्बकीय क्षेत्र के लम्बवत् प्रवेश करता है तो उस पर लगने वाला बल लॉरेंन्ज बल अधिकतम होगा।

$$F_{\max.} = Bqv$$



यदि आवेशित कण चुम्बकीय क्षेत्र में क्षेत्र के समान्तर प्रवेश करता है तो उस पर लगनेवाला लॉरेन्ज बल न्यूनतम अर्थात् शून्य होगा।

$$F_{\min} = 0$$

# लॉरेन्ज बल का सदिश रूप -

लॉरेन्ज बल की दिशा  $\vec{v}$  तथा  $\vec{B}$  दोनों के सम्मिलित तल के लम्बवत् होती है। अतः इसका सदिश रूप निम्न होगा।

$$\vec{F} = q(\vec{v} \times \vec{B})$$

# एक समान चुम्बकीय क्षेत्र में आवेशित कण की गति -

- (I) जब कोई आवेशित कण चुम्बकीय क्षेत्र में क्षेत्र के समान्तर प्रवेश करता है अर्थात्  $\theta = 0^\circ$  या  $180^\circ$  तो कण पर लगने वाला बल  $F = Bqv \sin \theta$  से,  $F = 0$

इस प्रकार जब कोई आवेशित कण चुम्बकीय क्षेत्र में क्षेत्र के समान्तर प्रवेश करता है तो उस पर कोई बल कार्य नहीं करता है। इस स्थिति में कण का पथ ऋजुरेखीय होगा।

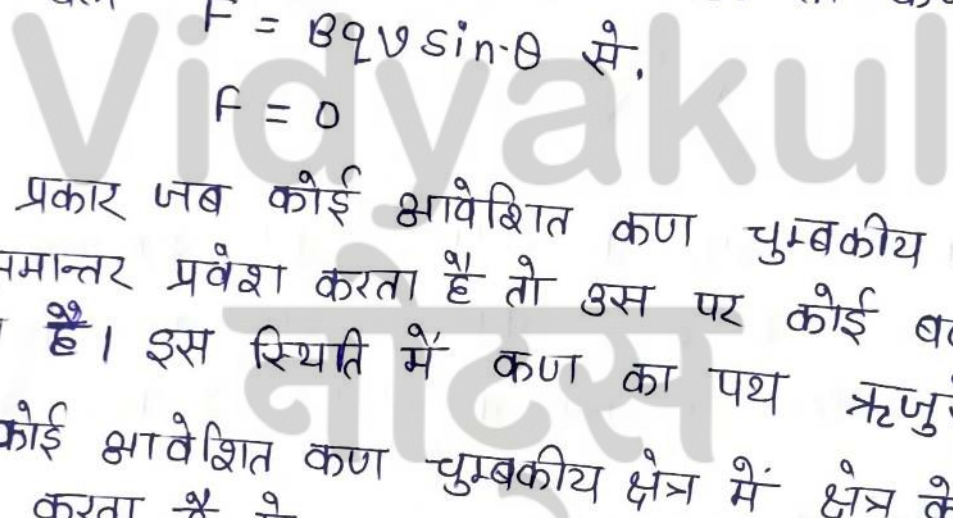
- (II) जब कोई आवेशित कण चुम्बकीय क्षेत्र में क्षेत्र के लम्बवत् प्रवेश करता है तो उस पर लगनेवाला बल

$$F = Bqv$$

$$(\sin 90^\circ = 1)$$

यह बल सदैव वेग के लम्बवत् होता है, जिससे लगातार वेग की दिशा बदलती रहती है और कण का पथ वृताकार हो जाता है।

वृताकार पथ की त्रिज्या :- वृताकार गति के लिए अभिकेन्द्र बल की आवश्यकता होती है। जो उसे लॉरेन्ज बल से प्राप्त होता है।





अर्थात्  $\frac{mv^2}{r} = Bqv$

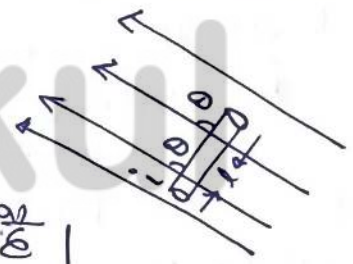
$r = \frac{mv}{Bq}$

iii जब कोई आवेशित कण चुम्बकीय क्षेत्र में क्षेत्र के साथ  $\theta$  कोण पर प्रवेश करता है तो कण का पथ कुण्डलिनी (mmmm) के रूप में अर्थात् कुण्डलिनी होगा।

# एक समान चुम्बकीय क्षेत्र में स्थित धारावाही & चालक पर लगनेवाला बल - माना  $L$  लम्बाई तथा  $A$  अनुप्रस्थ क्षेत्रफल वाले एक धारावाही चालक में  $i$  धारा प्रवाहित हो रही है। माना यह चालक चुम्बकीय क्षेत्र में क्षेत्र के साथ  $\theta$  कोण पर स्थित है, तो इसपर लगने वाला बल निम्न होगा।

$F = Bil \sin\theta$

जहाँ  $\theta$  को चुम्बकीय प्रेरण या चुम्बकीय क्षेत्र की तीव्रता कहते हैं।



# चुम्बकीय क्षेत्र की तीव्रता - हम जानते हैं कि चुम्बकीय क्षेत्र धारावाही चालक के लम्बवत् स्थित होने पर चालक पर लगने वाला बल

$F = Bil$

if  $i = 1$  Ampere

$l = 1$  m.

So,

$F = B$



किसी स्थान पर चुम्बकीय क्षेत्र की तीव्रता चुम्बकीय क्षेत्र की लम्बवत् रखे रुकांक लम्बाई के चालक पर लगने वाले बल के बराबर होती है। जबकि चालक में रुकांक द्वारा प्री प्रवाहित हो रही है इसका मात्रक  $\frac{\text{N}}{\text{ampere} \times \text{m}}$  था वेबर था टेसला होता है।

$$1 \text{ Tesla} = \frac{1 \text{ Nm}}{\text{A} \times \text{m}}$$

इसका अन्य मात्रक गॉस भी है।

$$1 \text{ टेसला} = 10^4 \text{ गॉस}$$

फ्लेमिंग के बायें हाथ का नियम :- यदि बायें हाथ के अंगूठे तथा उसके पास वाली दो उंगलियों को इस प्रकार से फैलाये की तीनों परस्पर लम्बवत् हो यदि पहली अंगुली (तर्जनी) चुम्बकीय क्षेत्र की दिशा में तथा मध्यमा अंगुली द्वारा की दिशा में है तो अंगूठा चालक पर लगनेवाला बल की दिशा को बताता है।

Note:- यह नियम एकसमान चुम्बकीय क्षेत्र में स्थित चारावाही चालक पर लगनेवाले बल की दिशा को बताता है।

दायें हाथ की हथेली का नियम - यदि दायें हाथ के पंजे को इस प्रकार फैलाये कि उंगलियाँ तथा अंगूठा परस्पर लम्बवत् रहे यदि उंगलियाँ चुम्बकीय क्षेत्र की दिशा को तथा अंगूठा चालक में बहने वाली धारा की दिशा को प्रदर्शित करें तो चालक पर लगने वाले बल हथेली की लम्बवत् बाहर की ओर होगा।

Note:- यदि एक आवेशित कण ऐसे क्षेत्र में गति करता है जिसमें विद्युत तथा चुम्बकीय क्षेत्र दोनों में उपस्थित होते हैं तो कण पर विद्युत क्षेत्र के कारण लगने वाला बल

$$\vec{F}_e = q \vec{E}$$



चुम्बकीय क्षेत्र के कारण लगने वाला बल -

$$\vec{F}_m = q(\vec{v} \times \vec{B})$$

वैद्युत चुम्बकीय क्षेत्र में कण पर लगने वाला लॉरेन्ज बल

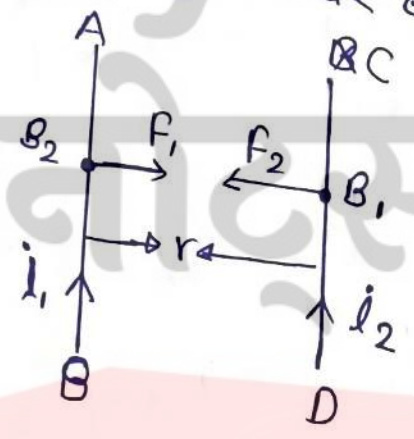
$$\vec{F} = q\vec{E} + q(\vec{v} \times \vec{B})$$

$$\vec{F} = q\vec{E} + q(\vec{v} \times \vec{B})$$

$$\vec{F} = q[\vec{E} + (\vec{v} \times \vec{B})]$$

# दो समान्तर, सीधे, लम्बे धारावाही चालकों के बीच बल -

Oersted के अनुसार - जब किसी चालक में धारा प्रवाहित होती है तो उसके चारों ओर चुम्बकीय क्षेत्र उत्पन्न हो जाता है यदि इस चालक के समीप कोई दूसरा चालक रख दें तो दूसरे चालक एक बल का अनुभव करता है। इस प्रकार समीप रखे दो धारावाही चालकों के चुम्बकीय क्षेत्रों की क्रियाओं के कारण एक-दूसरे पर बल आरोपित करते हैं।



माना कि दो सीधे समान्तर धारावाही चालक AB तथा CD निर्वात में एक-दूसरे से r दूरी पर रखे हैं तथा इनमें प्रवाहित धाराएँ i1, i2 हैं। बायो-सावर्ट के नियम से AB चालक द्वारा r दूरी पर उत्पन्न चुम्बकीय क्षेत्र

$$B_1 = \frac{\mu_0}{2\pi} \frac{i_1}{r} \quad \text{--- ①}$$

इस क्षेत्र की दिशा कागज के तल के लम्बवत् होगी।  
 यदि AB द्वारा उत्पन्न चुम्बकीय क्षेत्र में CD चालक को AB  
 चालक के समानान्तर रखें तो यह क्षेत्र  $B_1$  पर लम्बवत् होगा  
 तब CD चालक पर लगने वाला बल

$$F = B_1 l \sin \theta \text{ से}$$

$$F = B_1 i_2 l$$

$$F = \frac{\mu_0}{2\pi} \frac{i_1 i_2 \cdot l}{r}$$

$$\boxed{\frac{F}{l} = \frac{\mu_0}{2\pi} \cdot \frac{i_1 i_2}{r}}$$

इस बल की दिशा दाएँ हाथ की हथेली नियम या फ्लेमिंग  
 के बाएँ हाथ के नियम से दी जाती है।

Imp. यदि चालकों में एक ही दिशा में धाराएँ प्रवाहित हो रही  
 हैं तो चालकों के बीच आकर्षण बल लगता है। और यदि  
 चालकों में धाराएँ विपरीत दिशा में प्रवाहित हो रही हैं, तो  
 उनके बीच प्रतिकर्षण बल लगता है।

# 1 एम्पियर की परिभाषा - We know that

$$\frac{F}{l} = \frac{\mu_0}{2\pi} \cdot \frac{i_1 i_2}{r}$$

$$\text{If, } i_1 = i_2 = 1 \text{ Ampere}$$

$$r = 1 \text{ m}$$

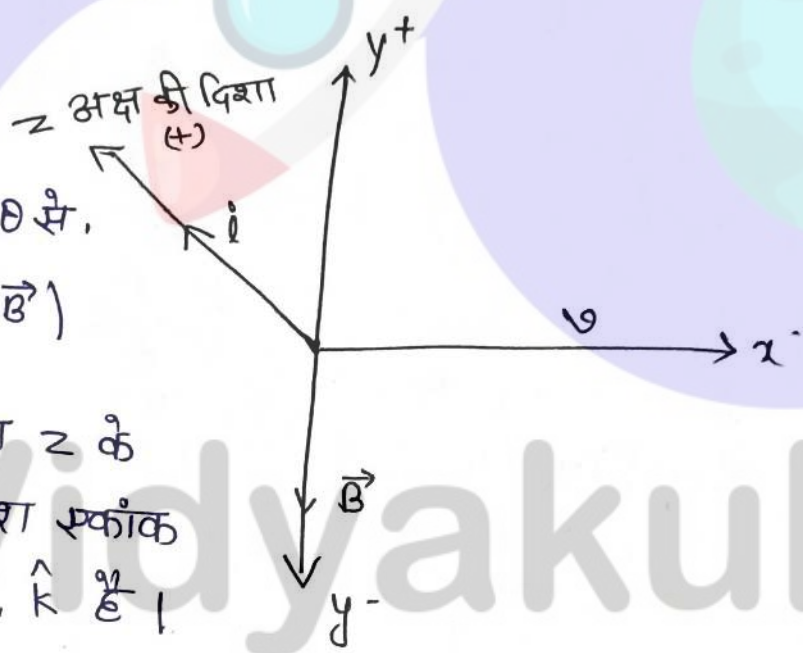
$$\text{So, } \boxed{\frac{F}{l} = \frac{\mu_0}{2\pi}}$$

$$\boxed{\frac{F}{l} = 2 \times 10^{-7} \text{ N/m}}$$



यदि निर्वात में 1m की दूरी पर रखे दो सीधे, लम्बे समान्तर धारावाही चालकों की प्रतिमीटर लम्बाई पर  $2 \times 10^7$  N/m का बल लगे तो चालकों में बहने वाली धारा 1 Amp. होगी

Ques → 1 इलेक्ट्रॉन z-अक्ष की दिशा में v चाल से एकसमान चुम्बकीय क्षेत्र B में जो -y अक्ष की दिशा में है, प्रवेश करता है तो इलेक्ट्रॉन पर कार्य करने वाले बल का सूत्र एवं दिशा ज्ञात कीजिए।



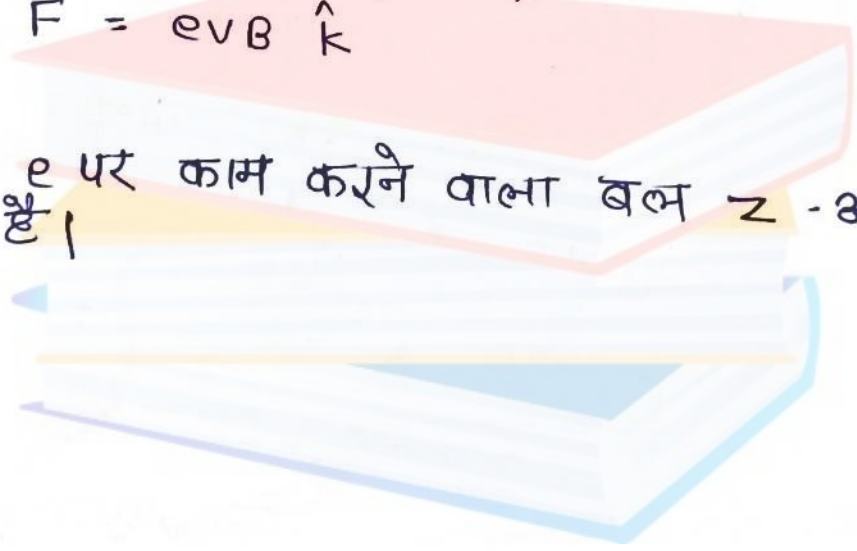
$F = Bqv \sin \theta$  से,  
 $F = q(\vec{v} \times \vec{B})$

यदि x, y तथा z के अक्ष अनुदिश स्कांकर सदिश  $\hat{i}, \hat{j}, \hat{k}$  हैं।

for e {  $q = -e$  } for proton  $q = e$

$\vec{F} = -e(v\hat{i} \times -B\hat{j})$   
 $\vec{F} = e(vB)(\hat{i} \times \hat{j})$   
 $\vec{F} = evB \hat{k}$

अर्थात् e पर काम करने वाला बल z-अक्ष की धन दिशा में है।



## धारा लूप और बल-युग्म का आधुनिक Torque का

→ एकसमान चुम्बकीय क्षेत्र में स्थित धारावाही लूप पर का आधुनिक-

माना एक ABCD आयताकार लूप एकसमान चुम्बकीय क्षेत्र में स्थित है जिसकी लम्बाई  $l$  तथा चौड़ाई  $b$  हैं।  
∴ हम जानते हैं कि

जब कोई धारावाही बालक चुम्बकीय क्षेत्र में स्थित होता है तो वह एक बल का अनुभव करता है अतः लूप की प्रत्येक भुजा पर बल कार्य करता है।  
चित्रानुसार -

फ्लेमिंग के बायें हाथ के नियम के अनुसार बल  $f_2$  व  $f_4$  की रेखाएँ एक ही हैं परंतु दिशाएँ विपरीत हैं जिससे वे एक दूसरे को निरस्त कर देते हैं।  
∴ लूप की AB तथा DC भुजाएँ क्षेत्र के लम्बवत् हैं अतः इन पर लगने वाले बल फ्लेमिंग के बायें हाथ के अनुसार  $f_1$  व  $f_3$  बराबर व विपरीत हैं परंतु इनकी क्रिया रेखाएँ भिन्न हैं।

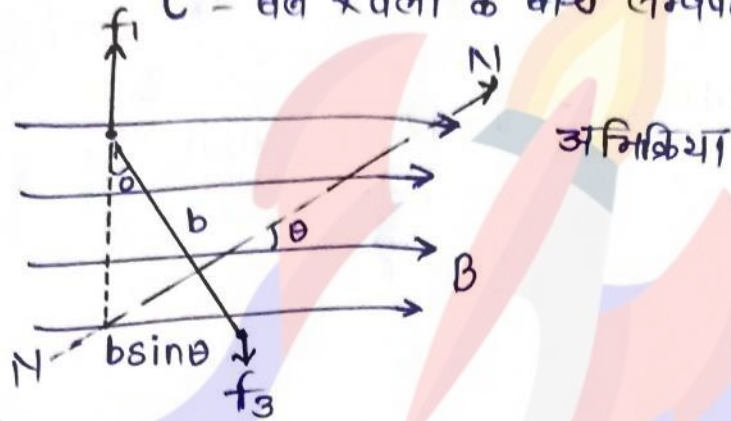
$$f_1 = f_3 = Bil$$

ये बराबर व विपरीत बल ये बराबर व विपरीत बल एक बल युग्म बताते हैं जो लूप की clock wise घुमता है।



इस बलयुग्म का आधुनिक

$\tau =$  बल  $\times$  वली के बीच लम्बवत दूरी



$\sin \theta = \frac{\text{लम्बवत दूरी}}{b}$

लम्बवत दूरी =  $b \sin \theta$

जब धूप के तब पर खिंचा गया अभिलम्ब चुम्बकीय क्षेत्र की दिशा से  $\theta$  कोण बनाता है तो  $f_1$  व  $f_3$  के बीच लम्बवत दूरी  $b \sin \theta$  होगी।

$\tau = b i l \times b \sin \theta$

{  $A = l + b$  धूप का क्षेत्र

$\tau = b i (l + b) \sin \theta$


$\tau = b i A \sin \theta$

यदि धूप के स्थान पर N फेरों वाली कुंडली ली तो

$\tau = N i A \sin \theta$

Note: - एक वृत्तकार धारावाही कुंडली तथा धारावाही धूप एक चुम्बकीय द्विध्रुव की भाँति कार्य करता है।

यदि कुंडली में धारा की दिशा Anticlockwise (वामार्धत) है तो कुंडली का प्रेरक के सामने वाला सिरा उत्तरी ध्रुव तथा दूसरा सिरा पश्चिमी ध्रुव बन जाता है। और यदि धारा की दिशा clockwise है तो प्रेरक का सामने वाला सिरा पश्चिमी ध्रुव तथा दूसरा सिरा उत्तरी ध्रुव बन जाता है।





चुम्बकीय द्विध्रुव आघूर्ण (Magnetic dipole moment):—

→ जब किसी चुम्बकीय द्विध्रुव (जैसे - धारावाही लूप या वृताकार कुंडली) को चुम्बकीय क्षेत्र में रखा जाता है तो इस पर एक बल गुणम लगता है जो चुम्बकीय द्विध्रुव की अक्ष को क्षेत्र के समान्तर करने का प्रयास करता है। माना एक चुम्बकीय द्विध्रुव एक समान चुम्बकीय क्षेत्र में क्षेत्र के साथ  $\theta$  कोण बनाते हुए रखा है। तो इस पर लगने वाले बल युग्म का आघूर्ण

$$\tau = NiAB \sin\theta$$

$$\tau =$$

$$\tau = MB \sin\theta$$

VIDYAKUL

Where,  $M = NiA$

इसे चुम्बकीय द्विध्रुव आघूर्ण कहते हैं यह एक सदिश राशि है इसकी दिशा द्विध्रुव की अक्ष के अनुदिश होती है

if  $\theta = 90^\circ$

So

$$\tau_{\max} = MB$$

$$M = \frac{\tau_{\max}}{B}$$

if  $B$  - स्कांक्र

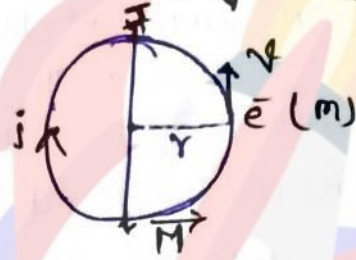
$$\tau_{\max} = M$$

“किसी चुम्बकीय द्विध्रुव का चुम्बकीय आघूर्ण वह बल आघूर्ण जो द्विध्रुव की स्कांक्र चुम्बकीय क्षेत्र में क्षेत्र के लम्बवत रखने पर द्विध्रुव पर बनाता है।” इसकी दिशा दाये हाथ के नियम से दी जाती है। यदि दाये हाथ के पंजे को घूमा कर अँगुलियाँ लूप के चारों ओर धारा की दिशा में मोंडे तो चुम्बकीय आघूर्ण की दिशा में हीगा।

$M$  एक सदिश राशि है इसका मात्रक  $\text{Am}^2$  होता है।



परिक्रमका करते ह्ये इलेक्ट्रॉन का चुम्बकीय द्विध्रुव आधुर्ग तथा  
 चुम्बकीय चुम्बकीय अनुपात (gyro magnetic Ratio):—



माना परमाणु में एक इलेक्ट्रॉन नाभिक के चारों ओर  $r$  दिशा के  
 वृत्तीय पथ पर  $v$  वेग से चक्कर लगा रहा है।  
 हम जानते हैं कि परिक्रमका करता हुआ इलेक्ट्रॉन एक चारावाही  
 वृत्त के समान होता है अतः एक चक्कर के लिए इलेक्ट्रॉन  
 से तुल्य चारा

$$i = \frac{e}{T}$$

जहाँ  $T$  एक चक्कर में लगा समय है।

$$T = \frac{2\pi r}{v}$$

$$\therefore i = \frac{-ev}{2\pi r}$$

चुम्बकीय द्विध्रुव आधुर्ग

$$M = NiA \text{ से}$$

एक चक्कर के लिए  $N=1$

$$M = iA$$

$$M = \frac{ev}{2\pi r} \times \pi r^2 \quad \left\{ \begin{array}{l} \text{वृत्ताकार वृत्त का क्षेत्र} \\ A = \pi r^2 \end{array} \right.$$

$$\boxed{M = \frac{evr}{2}} \quad \text{--- (1)}$$

कीर्णय संवेग के पदों में

$$v = r\omega$$

$$J = mr^2 \times \omega \quad \left\{ \begin{array}{l} I = mr^2 \text{ अक्ष} \\ \omega = r\omega \text{ आधुर्ग} \end{array} \right.$$

$$\boxed{J = mvr} \quad \text{--- (2)}$$

कोणीय सवेग की पिशा ध्रुव के तब के लम्बवत बाहर की ओर होती है।  
समीकरण ① व ② से

$$\frac{M}{J} = \frac{eVr}{2mRr}$$

$$\boxed{\frac{M}{J} = \frac{e}{2m}}$$

यह राशि ध्रुवीय चुम्बकीय अनुपात कहलाती है।

In Vector form,

$$\boxed{\vec{M} = -\left(\frac{e}{2m}\right)\vec{J}}$$

यहाँ  $\ominus$  चिह्न यह प्रदर्शित करता है कि  $\vec{M}$  vector की दिशा  $\vec{J}$  के विपरीत है। जबकी चनावेशित कण के लिए  $\vec{L}$ ,  $\vec{J}$  की दिशा में होता है।

**धारामापी (Galvanometer) :-** वह उपकरण जो किसी वैद्युत परिपथ में धारा की उपस्थिति जात करने तथा धारा मापन के लिए प्रयुक्त होता है गैल्वेनोमीटर कहलाता है।

→ धारामापी यंत्र मुख्यतः दो प्रकार के होते हैं।

- ① रूद्र दौलन धारामापी
- ② प्रेक्ष्य धारामापी

→ रूद्र दौलन धारामापी भी दो प्रकार के होते हैं।

- A. चल कुड़ली धारामापी
- B. चल चुम्बक धारामापी

**Imp (Theory of moving coil galvanometer) :-** यह वैद्युत धारा मापने का सबसे सरल और सुग्राही यंत्र है चल कुड़ली धारामापी इस सिद्धांत पर आधारित है कि जब किसी चुम्बकीय क्षेत्र में स्थित किसी कुड़ली से वैद्युत धारा प्रवाहित होती है। तो कुड़ली पर एक विक्षेपक बलभुग्म कार्य करने लगता है इस बलभुग्म का आधुनिक वैद्युत धारा के मान पर निर्भर करता है। इस बलभुग्म के कारण उत्पन्न कुड़ली के विक्षेप को नापकर वैद्युत धारा का मान जात किया जा सकता है।



→ धारामापी की धारा सुग्राहिता तथा वोल्टेज सुग्राहिता (Current sensitivity):  
 धारामापी की धारा सुग्राहिता कुंडली में प्रवाहित प्रति स्कांक धारा के लिए उत्पन्न विक्षेप के बराबर होती है।

धारामापी सुग्राहिता  $I_s = \frac{\theta}{i}$

जहाँ  $\theta$  कुंडली में उत्पन्न विक्षेप है, या स्केन कोण है।  
 कुंडली की समुलन अवस्था में -

विक्षेपक बलयुग्म का आधुर्ग = सँकुचकारी बलयुग्म का आधुर्ग

$$\tau = N i A B \sin \theta$$

अधिकतम विक्षेपक बलयुग्म आधुर्ग

$$N i A B = c \theta$$

$$\frac{N A B}{c} = \frac{\theta}{i}$$

$$I_s = \frac{N A B}{c}$$

{ मरोड़ी दृढता = c

बलयुग्म / Voltage sensit

स्कांक रेडियन कोण के लिए

→ Voltage sensitivity :- धारामापी की वोल्टेज सुग्राहिता कुंडली के सिरी पर लगाये गए प्रति स्कांक वोल्टेज के लिए उत्पन्न विक्षेप के बराबर होती है।

वोल्टेज सुग्राहिता  $V_s = \frac{\theta}{V}$

$$\sin \theta \quad V = i R$$

$$V_s = \frac{\theta}{i R}$$

$$V_s = \frac{I_s}{R}$$

$$V_s = \frac{N B A}{C R}$$

चुम्बकीय क्षेत्र में स्थित चुम्बकीय द्विध्रुव का घुमाने में किया गया कार्य -

अथवा or

→ चुम्बकीय क्षेत्र में स्थित चुम्बकीय द्विध्रुव की स्थितिज ऊर्जा - चुम्बकीय द्विध्रुव को चुम्बकीय क्षेत्र में अभिविन्यास अभिविन्यास  $\theta_1$  से अभिविन्यास  $\theta_2$  तक घुमाने में किया गया कार्य

$$W = MB (\cos \theta_1 - \cos \theta_2)$$

यह कार्य द्विध्रुव में स्थितिज ऊर्जा के रूप में संग्रित हो जाता है।

वैद्युत द्विध्रुव की स्थितिज ऊर्जा

$$U = MB (\cos \theta_1 - \cos \theta_2)$$

for simplification

सुविधा के लिए किसी भी स्केल अभिविन्यास के लिए स्थितिज ऊर्जा का मान शून्य मान सकते हैं।

$\theta = 90^\circ$  के लिए

स्थितिज ऊर्जा  $U = 0$  होती है तब द्विध्रुव की क्षेत्र से  $\theta$  कोण पर स्थितिज ऊर्जा -

$$W = -MB (\cos \theta)$$

$$W = -MB \cos \theta$$

$$U = MB (\cos 90^\circ - \cos \theta)$$

$$U = -MB \cos \theta$$

Imp Special Case :-

1. जब चुम्बकीय द्विध्रुव क्षेत्र की ही दिशा में ही अर्थात्

$$\theta = 0^\circ$$

तब द्विध्रुव के स्थितिज ऊर्जा  $U = -MB \cos \theta$

$$U = -MB$$

यह चुम्बकीय द्विध्रुव का स्थायी सतुलन कहलाता है।

2. जब चुम्बकीय द्विध्रुव के स्थायी सतुलन से  $180^\circ$  के कोण पर घुमाया जाता है। अर्थात्  $\theta = 180^\circ$

$$U = -MB \cos 180^\circ$$

$$\left\{ \cos 180^\circ = -1 \right.$$

$$U = MB$$



Note:— चुम्बकीय द्विध्रुव की स्थायी तथा अस्थायी सतुलन की स्थितियों में ⑧  
स्थितिज ऊर्जा में अन्तर  $2MB$  होता है।

$$\begin{aligned}\Delta u &= u_{80} - u_0 \\ &= MB - (-MB) \\ &= 2MB\end{aligned}$$

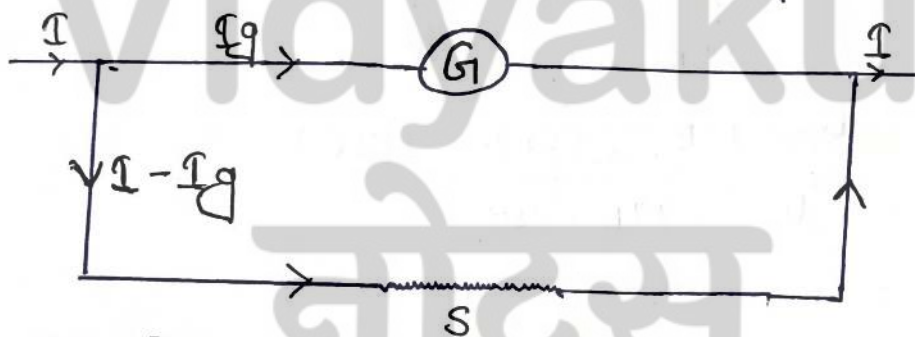
★ धारामापी का अमीटर में रूपान्तरण -

→ अमीटर निम्न प्रतिरोध का एक धारामापी होता है। जिसका प्रयोग किसी वैद्युत प्रतिरोध में प्रवाहित होने वाली वैद्युत धारा के मापन में किया जाता है अमीटर को सदैव वैद्युत परिपथ के श्रेणीक्रम में जोड़ा जाता है धारा के शुद्ध मापन के लिए अमीटर का वैद्युत प्रतिरोध कम से कम होता है। चलिए।

Note:— एक आर्क्षित अमीटर का वैद्युत प्रतिरोध शून्य होता है।

→ धारामापी को अमीटर में बदलने के लिए एक निम्न प्रतिरोध को धारामापी के समान्तर क्रम में जोड़ देते हैं। जिसे संच कहते हैं।

माना एक धारामापी का वैद्युत प्रतिरोध  $G$  है तथा इसके समान्तर क्रम में प्रतिरोध  $S$  संच किया गया है।



माना एक परिपथ में प्रवाहित अधिकतम धारा  $I$  है, यदि धारामापी में प्रवाहित  $I_g$  है तो संच प्रतिरोध  $S$  में प्रवाहित धारा  $I - I_g$  होगी।

∴ यह समायोजन समान्तर क्रम में अतः इसके कारण सिरों पर विभवान्तर समान होगा।

$$I_g \cdot G = (I - I_g) \cdot S$$

$$S = \left( \frac{I_g}{I - I_g} \right) \times G$$



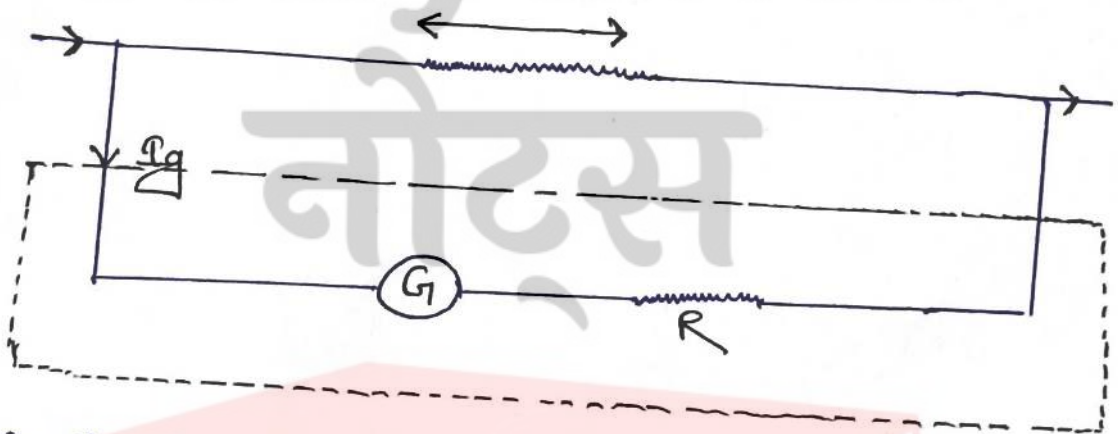
Note:- 2. धारामापी को अमीटर में बदलने के लिए समान्तर क्रम में निम्न प्रतिरोध का सन्त लगाया पड़ता है।

2. किसी वैद्युत परिपथ में अमीटर को श्रेणी क्रम में संयोजन करते हैं।

★ धारामापी का वोल्टमीटर में रूपान्तरण :- वोल्टमीटर एक ऐसा उपकरण है जिसका प्रयोग किसी वैद्युत परिपथ के किसी दो बिन्दुओं के बीच वैद्युत विभवांतर को सीधे वोल्ट में नापने के लिए किया जाता है। विभवांतर के शुद्ध मापन के लिए वोल्टमीटर का प्रतिरोध जितना अधिक से अधिक सभव हो सके, होना चाहिए।

Note:- एक भार्यग कोट वोल्टमीटर का वैद्युत प्रतिरोध अनन्त होता है। धारामापी को वोल्टमीटर में परिवर्तित करने के लिए धारामापी के श्रेणी क्रम में उच्च प्रतिरोध की जोड़ देते हैं। माना धारामापी का वैद्युत प्रतिरोध  $G$  है तथा इसके श्रेणी क्रम में जोड़ा गया उच्च प्रतिरोध  $R$  है यदि संयोजन में  $I_g$  धारा प्रवाहित होने से इसके सन्ती पर विभवांतर  $V$  है।

$$V = I_g (G + R)$$



Note: 1. किसी वैद्युत परिपथ में वोल्टमीटर को समान्तर क्रम में संयोजन किया जाता है।

2. धारामापी को वोल्टमीटर में बदलने के लिए धारामापी की कुड़ली के श्रेणी क्रम में उच्च प्रतिरोध का सन्त लगाया होगा।



Note :- चुम्बकीय द्विध्रुव की स्थायी सतुलन की परिस्थिति में  
 ( $\theta = 0$ ) पर स्थितिज ऊर्जा न्यूनतम ( $-MB$ ) तथा अस्थायी  
 सतुलन में ( $\theta = 180^\circ$ ) स्थितिज ऊर्जा अधिकतम ( $MB$ ) होती है।



# Vidyakul

## नोट्स

